

**Филиал федерального государственного бюджетного образовательного учреждения  
высшего образования  
«Национальный исследовательский университет «МЭИ»  
в г. Смоленске**

**Методическое обеспечение дисциплины**

**Основы электроники и нанoeлектроники**

(НАИМЕНОВАНИЕ ДИСЦИПЛИНЫ)

---

**Смоленск**

**Методические материалы составил:**

доцент кафедры «Электроники и микропроцессорной техники»

канд. техн. наук, доцент

Астахов С. П.

подпись

ФИО

«24» июня 2020 г.

**Заведующий кафедрой «Электроники и микропроцессорной техники»:**

подпись

Якименко Игорь Владимирович

ФИО

«02» июля 2020 г.

## 1 Методическое обеспечение лекций

Цель лекций – изучение понятийного аппарата, основных теоретических положений и методов изучаемой дисциплины, необходимых для освоения закрепленных компетенций.

Комплект лекций, в формате мультимедийных презентаций, расположен по ссылке:  
[https://drive.google.com/drive/folders/18texBFfd2\\_aOcJNbF\\_mGMSrkvojeBe2k](https://drive.google.com/drive/folders/18texBFfd2_aOcJNbF_mGMSrkvojeBe2k)

Пример лекций в формате мультимедийных презентаций:

**ОСНОВЫ ЭЛЕКТРОНИКИ И НАНОЭЛЕКТРОНИКИ**  
 Твердотельная электроника

**Лекция 6**

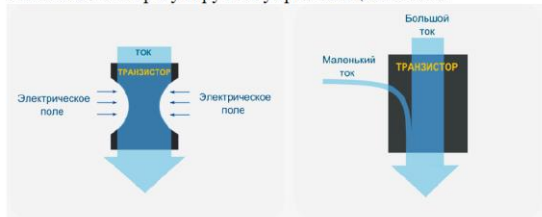
**Основы и принципы работы полевых транзисторов и МДП-транзисторов**

Рассматриваемые вопросы

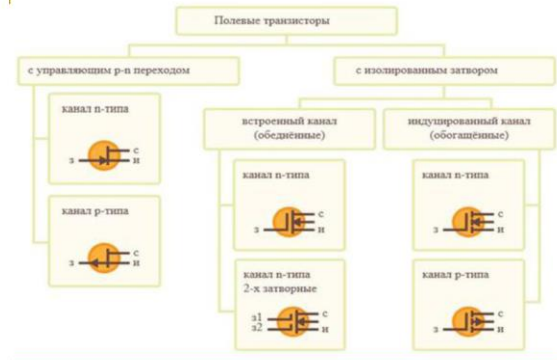
- 1 Основные сведения о полевых транзисторах
- 2 Полевые транзисторы с управляющим  $p-n$  переходом
- 3 МДП-транзисторы со встроенным каналом
- 4 МДП-транзисторы с индуцированным каналом
- 5 Силовые МДП-транзисторы и биполярные транзисторы с изолированным затвором

Основные сведения о полевых транзисторах

**Полевой транзистор** – транзистор, в котором сила проходящего через него тока регулируется внешним электрическим полем, т. е. напряжением. Это принципиальное различие между ним и биполярным транзистором, где сила основного тока регулируется управляющим током.

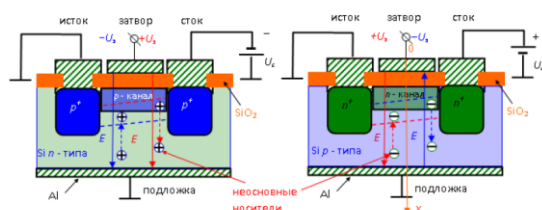


Классификация полевых транзисторов



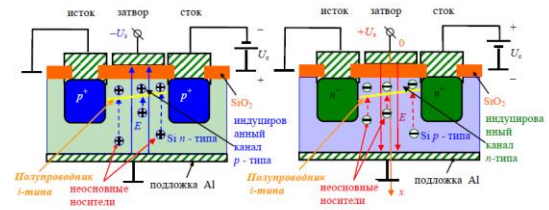
МДП-транзисторы со встроенным каналом

Получается структура, состоящая из металла, диэлектрика и полупроводника. В МДП-транзисторе со **встроенным каналом** у поверхности полупроводника имеется слой с **инверсным, относительно подложки, типом проводимости**.



МДП-транзисторы с индуцированным каналом

Получается структура, состоящая из металла, диэлектрика и полупроводника. В МДП-транзисторе с **индуцированным каналом** у поверхности полупроводника отсутствует слой с инверсным, относительно подложки, типом проводимости



## 2 Методическое обеспечение лабораторных работ

Цель лабораторных работ – закрепление лекционного материала, привитие навыков применения теоретических знаний для решения научно-исследовательских задач, необходимых для освоения закрепленных компетенций.

Задания на лабораторные работы расположены по ссылке:

[https://drive.google.com/drive/folders/18texBFfd2\\_aOcjNbF\\_mGMSrkvojeBe2k](https://drive.google.com/drive/folders/18texBFfd2_aOcjNbF_mGMSrkvojeBe2k)

Пример задания на лабораторную работу

### Лабораторная работа № 6

#### Исследование статических характеристик полевых транзисторов, включенных по схеме с общим истоком

**Цель работы** – исследование статических выходных вольтамперных характеристик (ВАХ), полевых транзисторов.

#### 1 Описание лабораторного макета и измерительной аппаратуры

В лабораторной работе используются:

- лабораторный макет (рисунок 1), представляющий собой плату из стеклотекстолита, на которой размещены исследуемые полевые транзисторы, а также вспомогательные элементы схемы для подключения внешних источников питания и измерительных приборов;
- двухканальный осциллограф (рисунок 2), работающий в режиме «характериограф»;
- источник питания универсальный (рисунок 3), служащий для подачи переменного напряжения  $\sim U_p$  (напряжения развертки) на исследуемый прибор (может ступенчато регулироваться с помощью переключателя в диапазоне  $0 \div \sim 30 В$ );
- источник питания стабилизированный (рисунок 4), предназначенный для подачи на измерительную схему постоянных уровней напряжений, являющихся параметром семейства ВАХ;
- мультиметр ВР-11А (рисунок 5), предназначенный для контроля величин напряжения, являющихся параметром семейства ВАХ.

Измерительные приборы, внешний источник питания и исследуемый транзистор соединяются с измерительной схемой коммутационными проводниками.

**Все соединения выполняются только при выключенном питании!**

#### 2 Рабочее задание на снятие выходных вольтамперных характеристик полевых транзисторов, включенных по схеме с общим истоком

**2.1** С помощью коммутационных проводов необходимо собрать измерительную установку (характериограф) в соответствии с электрической принципиальной схемой (рабочее задание на отдельном листе) для отображения на экране осциллографа выходных вольтамперных характеристик полевого транзисторов (рис. ба), показать преподавателю.

**2.2** Включить питание стенда, включить осциллограф, используя его органы управления установить:

- режим работы «ХУ»;
- цену делений по осям «Х» и «У» –  $1 В/дел$ .

**2.3** Определить цену деления оси «У» в производных единицах измерения силы тока.

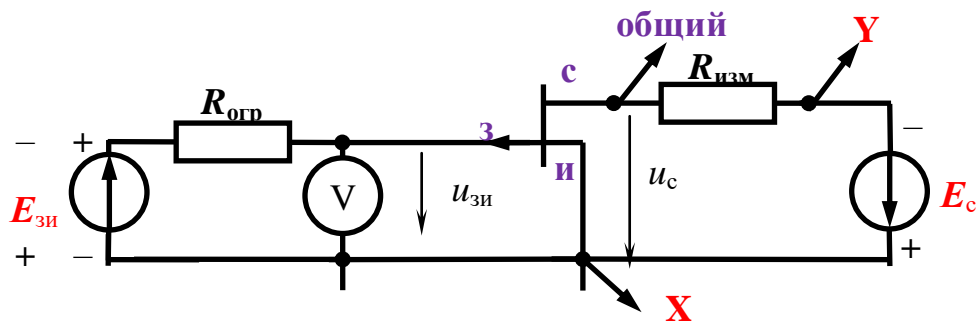
**2.4** Проградуировать оси координат бланка соответствующего раздела отчета о лабораторной работе.

**2.5** Включить питание источника питания универсального, выставить значение амплитуды выходного напряжения (ориентировочные значения  $\sim 3 \div \sim 12 В$ ).

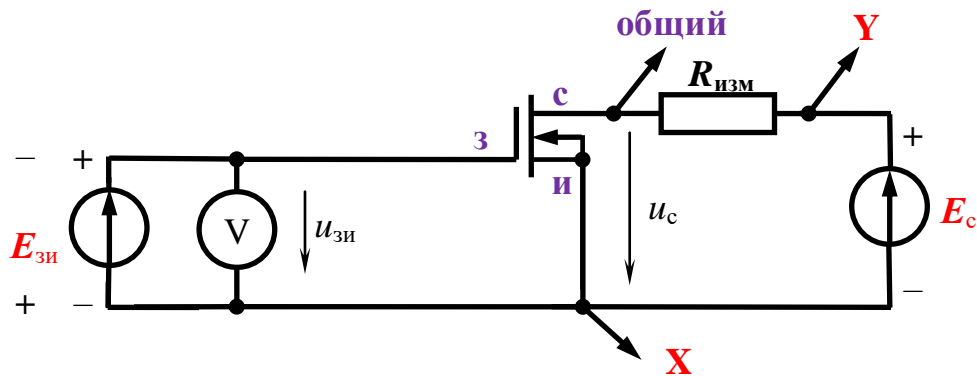
**2.6** Получить изображение ВАХ исследуемого прибора для значения параметра  $U_{зи} = 0 В$ .

**2.7** В случае нестабильности изображения, необходимо его стабилизировать путем выбора одного из возможных режимов синхронизации осциллографа.

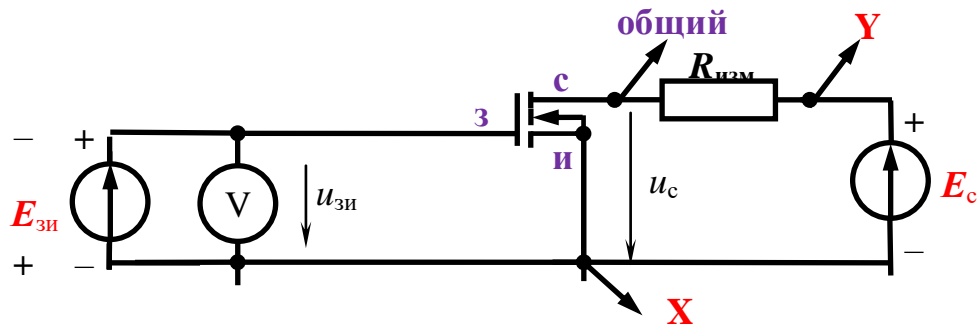
**2.8** Используя возможность включения инверсии изображения по каждому из каналов, добиться соответствия изображения ВАХ исследуемого элемента ее теоретическому виду (*размещению ВАХ в 1 и 2 квадрантах координатной плоскости*).



а) полевой транзистор с управляющим  $p-n$  переходом



б) МОП транзистор с встроенным каналом



в) МОП транзистор с индуцированным каналом

Рисунок 6 – Схема опыта

В случае необходимости можно изменить разрешение экрана осциллографа (цену делений) по осям «X» и «Y» для более точного снятия ВАХ.

**2.9** Включить питание источника питания стабилизированного, установить величину напряжения  $5 \div 10 \text{ В}$ .

**2.10** Последовательно меняя величину параметра  $U_{зи}$  (используя двухканальный потенциометр, размещенный на лабораторном макете) в диапазоне от  $U_{зи \text{ мин}}$  до  $U_{зи \text{ max}}$  через выбранный интервал  $\Delta U_{зи}$  зарисовать вид семейства ВАХ исследуемого элемента в соответствующий раздел отчета о лабораторной работе.

**2.11** Повторить пункты 2.1 – 2.10 для МОП транзисторов (рис. 6б, рис. 6в).

### 3 Методическое обеспечение проведения экзамена

Экзамен является заключительным этапом изучения дисциплины и имеет цель оценить уровень теоретические знания обучаемых, их навыки и умения применять полученные знания при решении практических задач, а также оценить уровень освоения компетенций закрепленных за дисциплиной.

Вопросы для подготовки к экзамену расположены по ссылке:

[https://drive.google.com/drive/folders/18texBFfd2\\_aOcjNbF\\_mGMSrkvojeBe2k](https://drive.google.com/drive/folders/18texBFfd2_aOcjNbF_mGMSrkvojeBe2k)